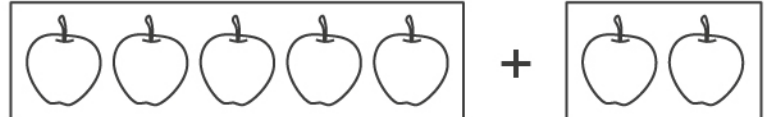



# Арифметическая задача

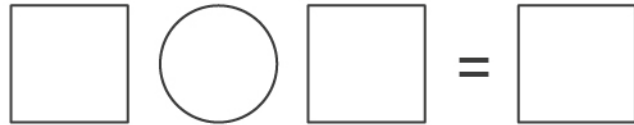
Имя: \_\_\_\_\_

Дата: \_\_\_\_\_

С одной ветки дерева упало пять яблок. С другой ветки дерева упало два яблока. Сколько всего яблок упало с дерева? Нарисуй все яблоки в схеме и запиши решение задачи.



=



У девочки Кати в день рождения было девять шариков. Но два шарика лопнуло. Сколько шариков осталось у Кати? Нарисуй в пустом квадрате столько шариков, сколько их осталось у девочки. Запиши решение задачи.

